

1 вариант

Фамилия, имя _____

Школа _____ Класс 1 _____

ОСНОВНАЯ ЧАСТЬ

Постарайся выполнить все задания этой части.

Выполняй их по порядку.

Задание 1

Начни читать текст про себя или тихо, вполголоса. По сигналу учителя поставь палочку после того слова, до которого дочитаешь. Дочитай текст до конца.

Задание 2






Найди и спиши **третье** предложение. Проверь. Если надо, исправь.

Ответь на вопросы и выполни задания по тексту.

Если нужно, перечитай текст еще раз.

Задание 3

В каком порядке лучше разложить картинки, чтобы было легче восстановить последовательность событий? Поставь в квадратиках под картинками цифры 1, 2, 3, 4, 5.

				
<input type="text"/>	<input type="text"/>	<input type="text"/>	<input type="text"/>	<input type="text"/>

Задание 4




Выбери.

У кого столько же лап, сколько у курицы...

- | | |
|----------------------------------------|--------------------------------------|
| <input type="checkbox"/> 1) у утёнка | <input type="checkbox"/> 3) у паучка |
| <input type="checkbox"/> 2) у козлёнка | <input type="checkbox"/> 4) у жучка |

Задание 5

1. Запиши цифрами, сколько утят нарисовал художник на каждой картинке.



2. Найди закономерность. Запиши цифрой, сколько утят должно быть на следующей картинке справа.

Задание 6

1. Подчеркни в слове буквы мягких согласных звуков.

2. Раздели это слово на слоги. Запиши, сколько в этом слове СЛОГОВ, ЗВУКОВ и БУКВ.

Выходить - _____ СЛОГОВ, _____ ЗВУКОВ, _____ БУКВ.

ДОПОЛНИТЕЛЬНАЯ ЧАСТЬ

Задания 7 – 11 можно выполнять в любом порядке.
Постарайся выполнить не меньше трёх заданий.

Задание 7

Отметь значком , какой из названных объектов умеет плавать и летать.

1) щука

3) медведь

2) курица

4) утка


Задание 8

Рассмотри схему.


1. Придумай слово, которое нужно написать на строчке. Запиши его.

2. Соедини стрелками объекты природы с соответствующим понятием.

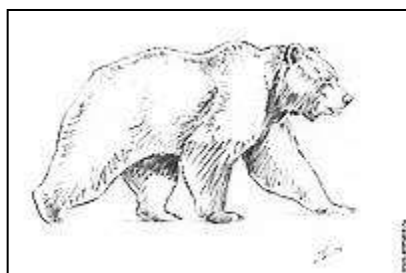
Напиши своё слово



**ДИКИЕ
ЖИВОТНЫЕ**



**ДОМАШНИЕ
ЖИВОТНЫЕ**



Напиши своё слово

Задание 9

У хозяйки было 7 птиц. Из них 3 курицы, а остальные утки.

Ребята придумали математический вопрос и ответили на него вот так:

$$7-3 = \square$$

Отметь значком вопрос, который придумали ребята.

- 1) Сколько всего птиц было у хозяйки?
- 2) На сколько меньше было кур, чем уток?
- 3) Сколько было уток у хозяйки?

Сосчитай и запиши ответ.

Задание 10

Как ты думаешь, почему курица ненадолго уходила из гнезда?

Напиши 1-2 предложения.

Задание 11

Напиши, что означает выражение «пустились вплавь».
